

Basi di dati II

Prova parziale — 28 marzo 2012 — Compito A

Rispondere su questo fascicolo.

Tempo a disposizione: un'ora e quindici minuti.

Cognome _____ Nome _____ Matricola _____ Ordin. _____

Domanda 1 (25%)

Considerare una tabella R appena creata (e quindi vuota), con le seguenti ipotesi

- R è definita su due campi, A di lunghezza $a = 4$ byte e B di lunghezza $b = 14$ byte, senza vincoli espliciti di chiave (e quindi le operazioni si possono fare senza verifiche particolari);
- la struttura fisica utilizzata per R è heap, senza indici, con una memorizzazione a lunghezza fissa (in cui supponiamo che, oltre ai byte necessari per i campi ne servano 2 ulteriori per la memorizzazione) e in cui si marcano come liberi gli spazi dei record eliminati, riutilizzandoli per successivi inserimenti (come avviene in SimpleDB);
- il sistema utilizza blocchi di dimensione $D = 2$ Kbyte (approssimabili a 2000).

In tale contesto, supporre che vengano eseguite, nell'ordine, le seguenti operazioni

1. inserimento di $N = 100.000$ ennuple
2. eliminazione di $N/2 = 50.000$ delle ennuple prima inserite (sulla base di una condizione verificabile durante la scansione)
3. dopo la conclusione e la chiusura della scansione precedente, inserimento di altre N ennuple

Rispondere alle domande seguenti, indicando formule e valori numerici:

Fattore di blocco f per la relazione R :

Numero blocchi occupati da R dopo la prima serie di inserimenti (punto 1):

Numero blocchi occupati da R dopo le eliminazioni di cui al punto 2:

Numero blocchi occupati da R dopo la seconda serie di inserimenti (punto 3):

Numero di scritture in memoria secondaria (per le pagine dei dati e quelle del log) per la prima serie di inserimenti, supponendo che i record di log abbiano una lunghezza pari a circa il doppio di quella dei record del file, con riferimento ad un programma che utilizzi una transazione separata per ciascun inserimento

- numero di scritture di pagine di log:

- numero di scritture di pagine di dati:

Come nel caso precedente, ma con riferimento ad un programma che utilizzi un'unica transazione per tutti gli inserimenti (e supponendo che non vi siano altre transazioni attive)

- numero di scritture di pagine di log:

- numero di scritture di pagine di dati:

Domanda 2 (25%)

Si consideri una base di dati con le relazioni

- R1(A,B,C,D) con
 - vincolo di integrità referenziale fra l'attributo D e la chiave E della relazione R2
 - $N_1=2.000.000$ ennuple e fattore di blocco $f_1=200$
 - $b=20$ valori diversi sull'attributo B (tutti gli interi compresi fra 1 e b)
 - $c=200.000$ valori diversi sull'attributo C (tutti gli interi compresi fra 1 e c)
 - una struttura disordinata, un indice sulla chiave primaria A e un altro sull'attributo C;
- R2(E,F,G) con
 - $N_2=1.000.000$ ennuple e fattore di blocco $f_2=10$
 - una struttura disordinata, un indice sulla chiave primaria E

Supponendo che:

- gli indici abbiano tutti $p=4$ livelli (contando anche radice e foglie) e fattore di blocco massimo $f_i=100$
- il sistema esegua sempre i join come nested loop
- ogni operazione possa contare su un numero di pagine di buffer pari a circa $q=150$,

valutare il costo (indicandolo in modo sia simbolico sia numerico) di ciascuna delle interrogazioni seguenti:

```
select *
from R1 join R2 on D=E
```

```
select *
from R1 join R2 on D=E
where B=5
```


```
select *
from R1 join R2 on D=E
where C=502
```

Domanda 3 (25%)

Si consideri un B-tree con nodi intermedi che contengono due chiavi e tre puntatori e foglie con due chiavi, in cui vengano inserite chiavi (a partire dall'albero vuoto) nel seguente ordine: 1, 3, 5, 7, 9, 11, 13, 15. Mostrare l'albero dopo l'inserimento di cinque chiavi e alla fine.



Mostrare poi l'albero dopo l'eliminazione della chiave 3 dall'ultimo albero ottenuto in risposta alla domanda precedente.



Domanda 4 (25%)

Nella figura seguente è schematizzato un piccolissimo buffer con quattro pagine (numerare da 0 a 3), il cui stato viene descritto, per ciascuna pagina, da (i) un intero che indica il numero di pin su di essa (quindi 0 indica che la pagina è libera) (ii) un riferimento al blocco che per ultimo è stato caricato nella pagina; (iii) l'istante in cui è stato effettuato l'ultimo caricamento; (iv) l'istante in cui la pagina è stata per l'ultima volta liberata (se è libera) (v) un booleano che indica se la pagina è sporca (1 indica che è stata modificata dopo il caricamento o dopo l'ultima scrittura).

Pagina del buffer:	0	1	2	3
numero di pin sulla pagina	1	2	0	1
blocco	70	33	35	47
istante load	1	7	3	9
istante unpin			8	
dirty	1	0	0	0

Si supponga ora che vengano eseguite (a partire dall'istante 10, dopo che all'istante 9 è stata caricata la pagina 3) le seguenti operazioni (in cui l'argomento delle pin e unpin è il blocco di interesse, con setXXX si indica un aggiornamento di un qualche valore nel blocco e con flushAll il flush dell'intero buffer):

Istante	10	11	12	13	14	15	
Operazione	unpin(70),	pin(60),	setXXX(60,...)	unpin(60),	flushAll	setXXX(47,...)	
Istante	16	17	18	19	20	21	22
Operazione	unpin(47)	pin(70),	setXXX(70,...)	unpin(70),	pin(60),	unpin(60),	pin(70)

Riempendo la tabella seguente, indicare, per ciascuna delle strategie e per ciascuna delle pin, (1) quale pagina del buffer viene utilizzata, (2) se il blocco corrispondente viene letto dal disco e (3) se viene eseguita una scrittura su disco.

Istante	Operazione	naif			LRU			clock		
		Pagina	Legge?	Scrive?	Pagina	Legge?	Scrive?	Pagina	Legge?	Scrive?
11	pin(60)									
17	pin(70)									
20	pin(60)									
22	pin(70)									

Eventuali osservazioni

Basi di dati II

Prova parziale — 28 marzo 2012 — Compito B

Rispondere su questo fascicolo.

Tempo a disposizione: un'ora e quindici minuti.

Cognome _____ Nome _____ Matricola _____ Ordin. _____

Domanda 1 (25%)

Considerare una tabella T appena creata (e quindi vuota), con le seguenti ipotesi

- T è definita su due campi, A di lunghezza $a = 6$ byte e B di lunghezza $b = 32$ byte, senza vincoli espliciti di chiave (e quindi le operazioni si possono fare senza verifiche particolari);
- la struttura fisica utilizzata per T è heap, senza indici, con una memorizzazione a lunghezza fissa (in cui supponiamo che, oltre ai byte necessari per i campi ne servano 2 ulteriori per la memorizzazione) e in cui si marcano come liberi gli spazi dei record eliminati, riutilizzandoli per successivi inserimenti (come avviene in SimpleDB);
- il sistema utilizza blocchi di dimensione $D = 4$ Kbyte (approssimabili a 4000).

In tale contesto, supporre che vengano eseguite, nell'ordine, le seguenti operazioni

1. inserimento di $L = 100.000$ ennuple
2. eliminazione di $L/2 = 50.000$ delle ennuple prima inserite (sulla base di una condizione verificabile durante la scansione)
3. dopo la conclusione e la chiusura della scansione precedente, inserimento di altre L ennuple

Rispondere alle domande seguenti, indicando formule e valori numerici:

Fattore di blocco f per la relazione T:

Numero blocchi occupati da T dopo la prima serie di inserimenti (punto 1):

Numero blocchi occupati da T dopo le eliminazioni di cui al punto 2:

Numero blocchi occupati da T dopo la seconda serie di inserimenti (punto 3):

Numero di scritture in memoria secondaria (per le pagine dei dati e quelle del log) per la prima serie di inserimenti, supponendo che i record di log abbiano una lunghezza pari a circa il doppio di quella dei record del file, con riferimento ad un programma che utilizzi una transazione separata per ciascun inserimento

- numero di scritture di pagine di log:

- numero di scritture di pagine di dati:

Come nel caso precedente, ma con riferimento ad un programma che utilizzi un'unica transazione per tutti gli inserimenti (e supponendo che non vi siano altre transazioni attive)

- numero di scritture di pagine di log:

- numero di scritture di pagine di dati:

Domanda 2 (25%)

Si consideri una base di dati con le relazioni

- R1(A,B,C,D) con
 - vincolo di integrità referenziale fra l'attributo D e la chiave E della relazione R2
 - $L_1=1.000.000$ ennuple e fattore di blocco $f_1=100$
 - $b=10$ valori diversi sull'attributo B (tutti gli interi compresi fra 1 e b)
 - $c=100.000$ valori diversi sull'attributo C (tutti gli interi compresi fra 1 e c)
 - una struttura disordinata, un indice sulla chiave primaria A e un altro sull'attributo C;
- R2(E,F,G) con
 - $L_2=2.000.000$ ennuple e fattore di blocco $f_2=20$
 - una struttura disordinata, un indice sulla chiave primaria E

Supponendo che:

- gli indici abbiano tutti $i=4$ livelli (contando anche radice e foglie) e fattore di blocco massimo $f_i=100$
- il sistema esegua sempre i join come nested loop
- ogni operazione possa contare su un numero di pagine di buffer pari a circa $q=150$,

valutare il costo (indicandolo in modo sia simbolico sia numerico) di ciascuna delle interrogazioni seguenti:

```
select *
from R1 join R2 on D=E
```

```
select *
from R1 join R2 on D=E
where B=5
```

```
select *
from R1 join R2 on D=E
where C=502
```

Domanda 3 (25%)

Si consideri un B-tree con nodi intermedi che contengono due chiavi e tre puntatori e foglie con due chiavi, in cui vengano inserite chiavi (a partire dall'albero vuoto) nel seguente ordine: 15, 13, 11, 9, 7, 5, 3, 1. Mostrare l'albero dopo l'inserimento di cinque chiavi e alla fine.



Mostrare poi l'albero dopo l'eliminazione della chiave 13 dall'ultimo albero ottenuto in risposta alla domanda precedente.



Domanda 4 (25%)

Nella figura seguente è schematizzato un piccolissimo buffer con quattro pagine (numerare da 0 a 3), il cui stato viene descritto, per ciascuna pagina, da (i) un intero che indica il numero di pin su di essa (quindi 0 indica che la pagina è libera) (ii) un riferimento al blocco che per ultimo è stato caricato nella pagina; (iii) l'istante in cui è stato effettuato l'ultimo caricamento; (iv) l'istante in cui la pagina è stata per l'ultima volta liberata (se è libera) (v) un booleano che indica se la pagina è sporca (1 indica che è stata modificata dopo il caricamento o dopo l'ultima scrittura).

Pagina del buffer:	0	1	2	3
numero di pin sulla pagina	1	0	2	1
blocco	70	35	33	47
istante load	1	3	7	9
istante unpin		8		
dirty	1		0	0

Si supponga ora che vengano eseguite (a partire dall'istante 10, dopo che all'istante 9 è stata caricata la pagina 3) le seguenti operazioni (in cui l'argomento delle pin e unpin è il blocco di interesse, con setXXX si indica un aggiornamento di un qualche valore nel blocco e con flushAll il flush dell'intero buffer):

Istante	10	11	12	13	14	15	
Operazione	unpin(70),	pin(60),	setXXX(60,...)	unpin(60),	flushAll	setXXX(47,...)	
Istante	16	17	18	19	20	21	22
Operazione	unpin(47)	pin(70),	setXXX(70,...)	unpin(70),	pin(60),	unpin(60),	pin(70)

Riempendo la tabella seguente, indicare, per ciascuna delle strategie e per ciascuna delle pin, (1) quale pagina del buffer viene utilizzata, (2) se il blocco corrispondente viene letto dal disco e (3) se viene eseguita una scrittura su disco.

Istante	Operazione	naif			LRU			clock		
		Pagina	Legge?	Scrive?	Pagina	Legge?	Scrive?	Pagina	Legge?	Scrive?
11	pin(60)									
17	pin(70)									
20	pin(60)									
22	pin(70)									

Eventuali osservazioni

Basi di dati II

Prova parziale — 28 marzo 2012 — Compito C

Rispondere su questo fascicolo.

Tempo a disposizione: un'ora e quindici minuti.

Cognome _____ Nome _____ Matricola _____ Ordin. _____

Domanda 1 (25%)

Considerare una tabella T appena creata (e quindi vuota), con le seguenti ipotesi

- T è definita su due campi, A di lunghezza $a = 4$ byte e B di lunghezza $b = 14$ byte, senza vincoli espliciti di chiave (e quindi le operazioni si possono fare senza verifiche particolari);
- la struttura fisica utilizzata per T è heap, senza indici, con una memorizzazione a lunghezza fissa (in cui supponiamo che, oltre ai byte necessari per i campi ne servano 2 ulteriori per la memorizzazione) e in cui si marcano come liberi gli spazi dei record eliminati, riutilizzandoli per successivi inserimenti (come avviene in SimpleDB);
- il sistema utilizza blocchi di dimensione $D = 2$ Kbyte (approssimabili a 2000).

In tale contesto, supporre che vengano eseguite, nell'ordine, le seguenti operazioni

1. inserimento di $N = 100.000$ ennuple
2. eliminazione di $N/2 = 50.000$ delle ennuple prima inserite (sulla base di una condizione verificabile durante la scansione)
3. dopo la conclusione e la chiusura della scansione precedente, inserimento di altre N ennuple

Rispondere alle domande seguenti, indicando formule e valori numerici:

Fattore di blocco f per la relazione T:

Numero blocchi occupati da T dopo la prima serie di inserimenti (punto 1):

Numero blocchi occupati da T dopo le eliminazioni di cui al punto 2:

Numero blocchi occupati da T dopo la seconda serie di inserimenti (punto 3):

Numero di scritture in memoria secondaria (per le pagine dei dati e quelle del log) per la prima serie di inserimenti, supponendo che i record di log abbiano una lunghezza pari a circa il doppio di quella dei record del file, con riferimento ad un programma che utilizzi una transazione separata per ciascun inserimento

- numero di scritture di pagine di log:

- numero di scritture di pagine di dati:

Come nel caso precedente, ma con riferimento ad un programma che utilizzi un'unica transazione per tutti gli inserimenti (e supponendo che non vi siano altre transazioni attive)

- numero di scritture di pagine di log:

- numero di scritture di pagine di dati:

Domanda 2 (25%)

Si consideri una base di dati con le relazioni

- T1(A,B,C,D) con
 - vincolo di integrità referenziale fra l'attributo D e la chiave E della relazione T2
 - $N_1=2.000.000$ ennuple e fattore di blocco $f_1=200$
 - $b=20$ valori diversi sull'attributo B (tutti gli interi compresi fra 1 e b)
 - $c=200.000$ valori diversi sull'attributo C (tutti gli interi compresi fra 1 e c)
 - una struttura disordinata, un indice sulla chiave primaria A e un altro sull'attributo C;
- T2(E,F,G) con
 - $N_2=1.000.000$ ennuple e fattore di blocco $f_2=10$
 - una struttura disordinata, un indice sulla chiave primaria E

Supponendo che:

- gli indici abbiano tutti $i=4$ livelli (contando anche radice e foglie) e fattore di blocco massimo $f_i=100$
- il sistema esegua sempre i join come nested loop
- ogni operazione possa contare su un numero di pagine di buffer pari a circa $q=150$,

valutare il costo (indicandolo in modo sia simbolico sia numerico) di ciascuna delle interrogazioni seguenti:

```
select *
from T1 join T2 on D=E
```

```
select *
from T1 join T2 on D=E
where B=5
```


```
select *
from T1 join T2 on D=E
where C=502
```

Domanda 3 (25%)

Si consideri un B-tree con nodi intermedi che contengono due chiavi e tre puntatori e foglie con due chiavi, in cui vengano inserite chiavi (a partire dall'albero vuoto) nel seguente ordine: 2, 4, 6, 8, 10, 12, 14, 16. Mostrare l'albero dopo l'inserimento di cinque chiavi e alla fine.



Mostrare poi l'albero dopo l'eliminazione della chiave 4 dall'ultimo albero ottenuto in risposta alla domanda precedente.



Domanda 4 (25%)

Nella figura seguente è schematizzato un piccolissimo buffer con quattro pagine (numerare da 0 a 3), il cui stato viene descritto, per ciascuna pagina, da (i) un intero che indica il numero di pin su di essa (quindi 0 indica che la pagina è libera) (ii) un riferimento al blocco che per ultimo è stato caricato nella pagina; (iii) l'istante in cui è stato effettuato l'ultimo caricamento; (iv) l'istante in cui la pagina è stata per l'ultima volta liberata (se è libera) (v) un booleano che indica se la pagina è sporca (1 indica che è stata modificata dopo il caricamento o dopo l'ultima scrittura).

Pagina del buffer:	0	1	2	3
numero di pin sulla pagina	1	2	0	1
blocco	70	33	35	47
istante load	1	7	3	9
istante unpin			8	
dirty	1	0	0	0

Si supponga ora che vengano eseguite (a partire dall'istante 10, dopo che all'istante 9 è stata caricata la pagina 3) le seguenti operazioni (in cui l'argomento delle pin e unpin è il blocco di interesse, con setXXX si indica un aggiornamento di un qualche valore nel blocco e con flushAll il flush dell'intero buffer):

Istante	10	11	12	13	14	15	
Operazione	unpin(70),	pin(60),	setXXX(60,...)	unpin(60),	flushAll	setXXX(47,...)	
Istante	16	17	18	19	20	21	22
Operazione	unpin(47)	pin(70),	setXXX(70,...)	unpin(70),	pin(60),	unpin(60),	pin(70)

Riempendo la tabella seguente, indicare, per ciascuna delle strategie e per ciascuna delle pin, (1) quale pagina del buffer viene utilizzata, (2) se il blocco corrispondente viene letto dal disco e (3) se viene eseguita una scrittura su disco.

Istante	Operazione	naif			LRU			clock		
		Pagina	Legge?	Scrive?	Pagina	Legge?	Scrive?	Pagina	Legge?	Scrive?
11	pin(60)									
17	pin(70)									
20	pin(60)									
22	pin(70)									

Eventuali osservazioni

Basi di dati II

Prova parziale — 28 marzo 2012 — Compito D

Rispondere su questo fascicolo.

Tempo a disposizione: un'ora e quindici minuti.

Cognome _____ Nome _____ Matricola _____ Ordin. _____

Domanda 1 (25%)

Considerare una tabella R appena creata (e quindi vuota), con le seguenti ipotesi

- R è definita su due campi, A di lunghezza $a = 6$ byte e B di lunghezza $b = 32$ byte, senza vincoli espliciti di chiave (e quindi le operazioni si possono fare senza verifiche particolari);
- la struttura fisica utilizzata per R è heap, senza indici, con una memorizzazione a lunghezza fissa (in cui supponiamo che, oltre ai byte necessari per i campi ne servano 2 ulteriori per la memorizzazione) e in cui si marcano come liberi gli spazi dei record eliminati, riutilizzandoli per successivi inserimenti (come avviene in SimpleDB);
- il sistema utilizza blocchi di dimensione $D = 4$ Kbyte (approssimabili a 4000).

In tale contesto, supporre che vengano eseguite, nell'ordine, le seguenti operazioni

1. inserimento di $L = 100.000$ ennuple
2. eliminazione di $L/2 = 50.000$ delle ennuple prima inserite (sulla base di una condizione verificabile durante la scansione)
3. dopo la conclusione e la chiusura della scansione precedente, inserimento di altre L ennuple

Rispondere alle domande seguenti, indicando formule e valori numerici:

Fattore di blocco f per la relazione R :

Numero blocchi occupati da R dopo la prima serie di inserimenti (punto 1):

Numero blocchi occupati da R dopo le eliminazioni di cui al punto 2:

Numero blocchi occupati da R dopo la seconda serie di inserimenti (punto 3):

Numero di scritture in memoria secondaria (per le pagine dei dati e quelle del log) per la prima serie di inserimenti, supponendo che i record di log abbiano una lunghezza pari a circa il doppio di quella dei record del file, con riferimento ad un programma che utilizzi una transazione separata per ciascun inserimento

- numero di scritture di pagine di log:

- numero di scritture di pagine di dati:

Come nel caso precedente, ma con riferimento ad un programma che utilizzi un'unica transazione per tutti gli inserimenti (e supponendo che non vi siano altre transazioni attive)

- numero di scritture di pagine di log:

- numero di scritture di pagine di dati:

Domanda 2 (25%)

Si consideri una base di dati con le relazioni

- T1(A,B,C,D) con
 - vincolo di integrità referenziale fra l'attributo D e la chiave E della relazione T2
 - $L_1=1.000.000$ ennuple e fattore di blocco $f_1=100$
 - $b=10$ valori diversi sull'attributo B (tutti gli interi compresi fra 1 e b)
 - $c=100.000$ valori diversi sull'attributo C (tutti gli interi compresi fra 1 e c)
 - una struttura disordinata, un indice sulla chiave primaria A e un altro sull'attributo C;
- T2(E,F,G) con
 - $L_2=2.000.000$ ennuple e fattore di blocco $f_2=20$
 - una struttura disordinata, un indice sulla chiave primaria E

Supponendo che:

- gli indici abbiano tutti $i=4$ livelli (contando anche radice e foglie) e fattore di blocco massimo $f_i=100$
- il sistema esegua sempre i join come nested loop
- ogni operazione possa contare su un numero di pagine di buffer pari a circa $q=150$,

valutare il costo (indicandolo in modo sia simbolico sia numerico) di ciascuna delle interrogazioni seguenti:

```
select *
from T1 join T2 on D=E
```

```
select *
from T1 join T2 on D=E
where B=5
```


```
select *
from T1 join T2 on D=E
where C=502
```

Domanda 3 (25%)

Si consideri un B-tree con nodi intermedi che contengono due chiavi e tre puntatori e foglie con due chiavi, in cui vengano inserite chiavi (a partire dall'albero vuoto) nel seguente ordine: 16,14,12,10,8,6,4,2. Mostrare l'albero dopo l'inserimento di cinque chiavi e alla fine.



Mostrare poi l'albero dopo l'eliminazione della chiave 14 dall'ultimo albero ottenuto in risposta alla domanda precedente.



Domanda 4 (25%)

Nella figura seguente è schematizzato un piccolissimo buffer con quattro pagine (numerare da 0 a 3), il cui stato viene descritto, per ciascuna pagina, da (i) un intero che indica il numero di pin su di essa (quindi 0 indica che la pagina è libera) (ii) un riferimento al blocco che per ultimo è stato caricato nella pagina; (iii) l'istante in cui è stato effettuato l'ultimo caricamento; (iv) l'istante in cui la pagina è stata per l'ultima volta liberata (se è libera) (v) un booleano che indica se la pagina è sporca (1 indica che è stata modificata dopo il caricamento o dopo l'ultima scrittura).

Pagina del buffer:	0	1	2	3
numero di pin sulla pagina	1	0	2	1
blocco	70	35	33	47
istante load	1	3	7	9
istante unpin		8		
dirty	1		0	0

Si supponga ora che vengano eseguite (a partire dall'istante 10, dopo che all'istante 9 è stata caricata la pagina 3) le seguenti operazioni (in cui l'argomento delle pin e unpin è il blocco di interesse, con setXXX si indica un aggiornamento di un qualche valore nel blocco e con flushAll il flush dell'intero buffer):

Istante	10	11	12	13	14	15	
Operazione	unpin(70),	pin(60),	setXXX(60,...)	unpin(60),	flushAll	setXXX(47,...)	
Istante	16	17	18	19	20	21	22
Operazione	unpin(47)	pin(70),	setXXX(70,...)	unpin(70),	pin(60),	unpin(60),	pin(70)

Riempendo la tabella seguente, indicare, per ciascuna delle strategie e per ciascuna delle pin, (1) quale pagina del buffer viene utilizzata, (2) se il blocco corrispondente viene letto dal disco e (3) se viene eseguita una scrittura su disco.

Istante	Operazione	naif			LRU			clock		
		Pagina	Legge?	Scrive?	Pagina	Legge?	Scrive?	Pagina	Legge?	Scrive?
11	pin(60)									
17	pin(70)									
20	pin(60)									
22	pin(70)									

Eventuali osservazioni